

Lösungen: **Arbeitsheft „Im Land der Saevates“**


 Schreibe die keltischen Namen der Ortschaften auf:

Innichen: INDIACA (Besitz des Indius)	Luttach: LUCTACU (Besitz des Lucotos)
Taisten: DECETOS (Besitz des Decetos)	Vintl: VINDOIALO (Feld des Vindos)
Olang: AULACA (Besitz des Aulos)	Prags: BRACU (Morast, Sumpfgelände)

 Schätze das Fassungsvermögen der im Museum ausgestellten Situla.
88,3 Liter (≈ 90 l).

 Welche Getreidesorten bauten die Saevates an? **Weizen, Emmer, Dinkel, Gerste, Hafer, Hirse, Roggen**


 Was fehlt? Ergänze die Zeichnung. →

 Benenne die drei Straßenarten, die im Alpenraum gebaut wurden.

- 1. Schotterstraßen**
- 2. Felsstraßen**
- 3. Bohlenweg**



 Das Logo des Museums bildet ein Hahn. Die Figur wurde aus **Bronze** hergestellt.

 Lückentext 1: 1- **Raststationen**, 2- **Bädern**, 3- **Wohnsiedlungen**, 4- **Abstand**, 5- **Unterkünfte**

 Die Sternsinger schreiben die Buchstaben **C M B** an die Eingangstüren der besuchten Häuser. Schreibe „CHRISTUS MANSIONEM BENEDICAT“ in Deutsch auf. „**Christus segne dieses Haus.**“

 Die Inschrift **LVI** auf der Steinsäule nennt die Entfernung zur Stadt Aguntum.


1. Wie viele Meilen (milia passuum) sind es bis Aguntum? **56**
2. Eine Meile beträgt aufgerundet 1,5 km. Wie viele km sind es ungefähr von Sebatum bis Aguntum? $56 \cdot 1,5 =$ **84 km** (genau sind es **82,76 km**)
3. Schreibe einige Tagesstrecken auf.
Fußgänger: **22 – 30 km**
Gerichtsbote: **30 km**
Maultier mit Fuhrwerk: **39 km**
Soldat mit Marschbefehl und 20 kg Gepäck: **30 – 36 km**
Kaiserlicher Kurier zu Pferd: **70 – 80 km**

 Lausche! Welchen Handwerker hörst du bei der Arbeit? **Schmied**

 Beschrifte die Amphoren mit einigen Export- und Importprodukte.

Exportprodukte: **Käse, Honig, Eisen/Eisenwerkzeuge, Gold, Bergkristall, Holz, Pelze, Tierhäute.**

Importprodukte: **Feinkeramik, Terra sigillata, Glasgefäße, Lampen, Bronzegefäße, Wein, Garum, Oliven, Olivenöl, Pfeffer, Austern, Datteln, Feigen, Weihrauch, Elfenbein, Bernstein, Edelsteine, Parfums, Salben, Stoffe, Schmuck, ...**


 Kannst du die grauen Felder der Tabelle füllen?

Aureus	Denar	Sesterz	Dupondius	As	Quadrans
1	25	100	200	400	1.600
	1	4	8	16	64
		1	2	4	16
			1	2	8
				1	4

 Wie lang und wie breit war das macellum von Sebatum?

Länge: 69 m, Breite: 25 m

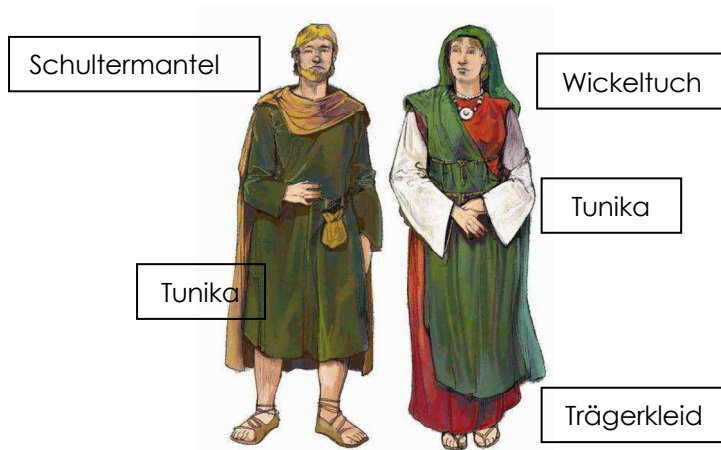
 Lückentext 2: 1- **Pinzetten**, 2- **Ohrlöffeln**, 3- **Spateln**, 4- **Kämmen**, 5- **Haarnadeln**

 Zeichne die passenden Frisuren zu den Gesichtern.



 Lückentext 3: 1- **Leinen**, 2- **Schafwolle**, 3- **Leder**, 4- **Filz**, 5- **Seide**


 Beschrifte die Teile der Tracht.



 Schreibe die Teile der Soldatentracht auf.

Tunika, **Leibbinde** (fascia ventralis), **Militärgürtel** (cingulum militiae) mit **Dolch**, **Schwertgurt**, **Kapuzenmantel** (paenula), **Soldatenstiefel** (caligae)

 Der in einer Grabkammer gefundene goldene Ring trägt die Inschrift **SOLI ET LVNE**. Er ist dem **Sonnengott Sol** und der **Mondgöttin Luna** geweiht.

 Grab 64: Für das Freilegen eines Skeletts mit Grabbeigaben, benutzen Archäologen verschiedene Werkzeuge. Welche Gegenstände siehst du in der Erdgrube?

	Hacke		Handpickel
✓	Spitzkelle		Schaufel
✓	Pinsel	✓	Stukkateureisen

 Grab 65: Welche Grabbeigaben siehst du in der Erdgrube?

Weinbecher, **Keramiktopf**, **Ahle**, **Keramikteller**, **Glasperlen**, **Dolch**, **Armreifen**, **Kette**, **Fibel**, **Ohring**